





Enigme n°13



Aide le lutin à compter le nombre de carrés présents dans cette figure.


Enigme n°14



Le médecin des lutins se gratte la tête ! Chaque lutin a une maladie différente, mais le médecin n'arrive pas à se rappeler qui souffre de quoi.

A l'aide des déclarations suivantes, aide-le à retrouver les maladies de chacun.

Enigme n°15



Le Père Noël a 26 lutins pour l'aider à préparer les cadeaux. Pour les remercier, il achète 5 boîtes de chocolats. Chaque boîte contient 10 chocolats.

Est-ce que le Père Noël peut donner 2 chocolats à chaque lutin ?