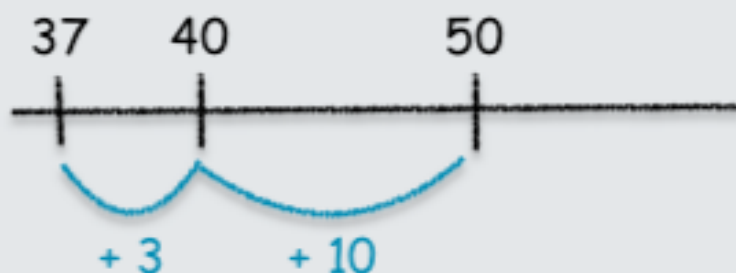


1- Résous le problème.

Léo achète une montre à 37€.

Il donne un billet de 50€.

Combien va-t-on lui rendre ?

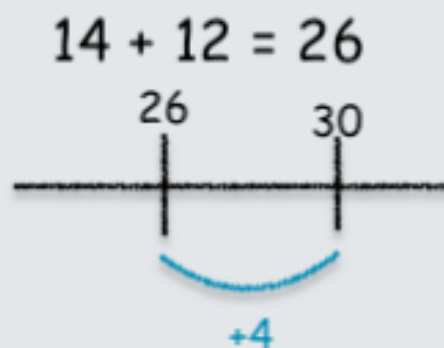



$$10\text{€} + 3\text{€} = 13\text{€}$$

On va lui rendre 13 €.

2- Mila achète un ballon et une raquette. Elle paie avec deux billets.

Écris ou dessine dans la dernière case, ce que lui rend la marchande.



Elle lui rend 4€.